

成都石室中学 2021~2022 学年度上期高 2022 届 10 月月考

文科综合

(全卷满分 300 分,考试时间 150 分钟)

注意事项:

- 答卷前,考生务必将自己的姓名、准考证号等填写在本试卷和答题卡相应位置上。
- 作答选择题时,选出每小题答案后,用 2B 铅笔把答题卡上对应题目的答案标号涂黑;如需改动,用橡皮擦干净后,再选涂其他答案。答案不能答在试卷上。
- 非选择题必须用黑色字迹的钢笔或签字笔作答。答案必须写在答题卡各题目指定区域内相应位置上;如需改动,先划掉原来的答案,然后再写上新答案;不准使用铅笔和涂改液。不按以上要求作答无效。
- 考生必须保证答题卡的整洁。考试结束后,将试卷和答题卡一并交回。

第 I 卷(选择题,共 140 分)

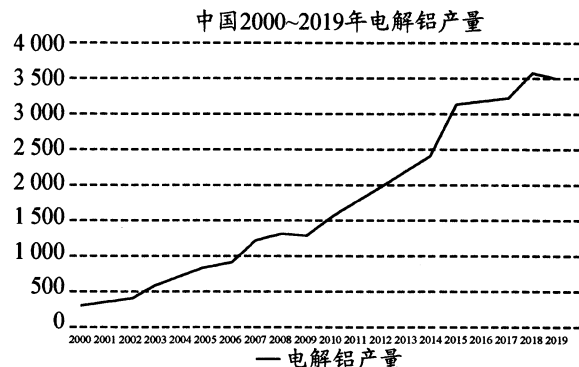
本卷共 35 个小题,每小题 4 分,共 140 分。在每小题给出的四个选项中,只有一项是符合题目要求的。

赵州桥由隋朝年间著名匠师李春设计建造,距今已有 1 400 多年的历史,其单孔、敞肩(主拱两肩上有小拱)和弧形设计独特,是当今世界上现存第二早、保存最完整的古代单孔敞肩石拱桥。下图为赵州桥,据此回答下列 1~2 题。



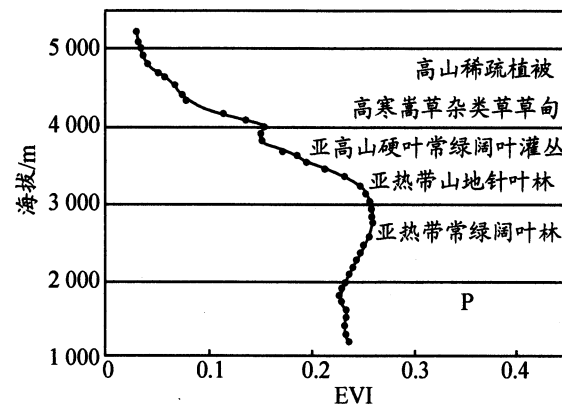
- 赵州桥主拱的两肩上各建两个小拱,该设计的主要目的不包括
 - 节约材料,降低成本
 - 利于泄洪,减小阻力
 - 减轻自重,稳定桥身
 - 减小坡度,便于通过
- 根据材料信息及赵州桥的设计特点,可以推测其所在地区地理环境特征
 - 径流量变率较小
 - 地形平坦,水流缓慢
 - 水运交通较发达
 - 含沙量大,淤积严重

1954 年,我国第一个电解铝厂建成投产以后,电解铝产业一直发展缓慢。本世纪以来,我国电解铝迅速发展,2018 年全球电解铝 6 434 万吨,其中,中国 56.71%、欧洲 11.31%、海湾国家 8.29%、亚洲(不含中国)6.85%、北美 5.87%。下图表示我国 2000~2019 年电解铝产量。据此完成 3~5 题。



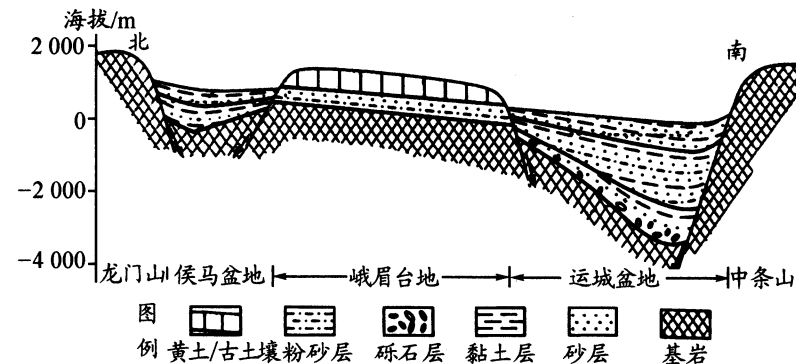
- 欧美地区对铝制品消费量大,但电解铝产量占比却很小,主要是因为
 - 劳动力成本高
 - 缺乏铝土资源
 - 冶炼耗能过大
 - 生产污染严重
- 本世纪以来,我国电解铝发展得益于各行业消费的快速增长,其最主要的消费端产业是
 - 建筑行业
 - 汽车产业
 - 电子电力
 - 包装产业
- 2019 年,我国电解铝产量相比上一年呈负增长,最可能是因为
 - 经济增长缓慢
 - 淘汰落后产能
 - 新冠疫情影响
 - 环保新政出台

增强植被指数(EVI)是植被生长状态及植被覆盖度的指示因子,指数越大,地面植被生长越好。下图示意我国某河流上游河谷植被类型及 EVI 垂直变化。近几十年该地区年降水量呈减少趋势。据此完成 6~8 题。



- 图中 P 植被类型最不可能是
 - 热带季雨林
 - 亚热带草原
 - 常绿阔叶灌丛
 - 热带经济林
- 近几十年,该河谷植被类型生长条件会有所改善的是
 - 亚高山硬叶常绿阔叶灌丛
 - 亚热带常绿阔叶林
 - 亚热带山地针叶林
 - 高寒蒿草杂类草甸
- 该河流可能位于我国
 - 西北地区
 - 华南地区
 - 西南地区
 - 华北地区

侯马—运城盆地是渭河盆地的东延部分,盆地东延时被中条山分割成北面的侯马—运城盆地和南面的三门盆地,统称汾渭盆地。侯马盆地居北,有汾河穿越而入黄河;运城盆地坐南,有涑水河注入,但未通黄河,盆地封闭,湖水于中条山前咸化成盐湖。下图为侯马—运城盆地南北向剖面图。据此完成 9~11 题。



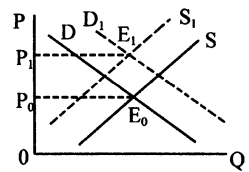
- 与侯马盆地相比,运城盆地
 - 沉积物层理结构不明显
 - 河流下蚀作用更强
 - 河流挟带的沉积物更少
 - 构造活动更加显著
- 推测图示地区基岩之上最老的岩层是
 - 盆地内砾石层
 - 盆地内黏土层
 - 台地粉砂层
 - 台地砂层

11. 侯马盆地内未形成咸水湖,其主要原因是

- A. 位于断裂带内,湖水下渗严重
B. 汾河与黄河连通,湖水多外泄
C. 湖水蒸发旺盛,湖泊干涸消失
D. 古黄土层侵蚀,湖泊淤积消失

12. 下图反映的是供给与需求同时变动对均衡点的影响。不考虑其他条件(S 、 S_1 分别表示变化前后的供给曲线, D 、 D_1 分别表示变化前后的需求曲线),下列情况,与 $E_0 \rightarrow E_1$ 反映的供求变化状态一致的是

- ①流感疫苗一针难求,疫苗企业加紧生产,引起疫苗价格变动
②粮食进口受阻,民众恐慌性囤粮,引起国内粮食价格的变动
③国际原油价格下降,钢材价格上涨,引起燃油汽车供求的变化
④城市化进程加快,土地供应减少,引起商品房价格的变化



- A. ①②
B. ①③
C. ②④
D. ③④

13. 2021年是中国共产党成立100周年。中国共产党的一百年,是矢志践行初心使命的一百年,是筚路蓝缕奠基立业的一百年,是创造辉煌开辟未来的一百年。自2021年6月21日起,中国人民银行陆续发行中国共产党成立100周年纪念币,该套纪念币共9枚,其中金质纪念币3枚,银质纪念币5枚,双色铜合金纪念币1枚,均为中华人民共和国法定货币。其中,金质纪念币和银质纪念币

- ①是使用价值和价值的统一体
②只能收藏纪念且不具有价值
③能执行货币的基本职能
④在本质上与纸币具有一致性

- A. ①③
B. ①④
C. ②③
D. ②④

14. 由下表信息,可知

	个别劳动时间	社会必要劳动时间
甲企业	1小时	2小时
乙企业	2小时	
丙企业	3小时	

- ①丙企业在竞争中处于优势地位
②在相同时间内甲企业创造的价值总量最大
③在相同时间内三家企业创造的价值总量一样大
④三家企业生产的该商品的单位价值量相同

- A. ①③
B. ①④
C. ②③
D. ②④

15. 2020年6月30日,中央全面深化改革委员会审议通过了《国企改革三年行动方案(2020~2022)年》。方案聚焦完善中国特色现代企业制度、推进国有资本布局优化和结构调整、积极稳妥推进混合所有制改革、健全市场化经营体制等八个方面的重点任务作出了国企改革的部署。深化国企改革

- ①是基于国有经济掌握经济命脉,是国民经济支柱
②是增强国有经济主体地位的客观要求和关键之举
③有利于巩固国有资产在社会总资产中的优势地位
④旨在提质增效,增强国有经济的控制力和影响力

- A. ①②
B. ①④
C. ②③
D. ③④

16. 继淘宝、京东、拼多多等电商平台推出助农战略之后,腾讯也加入了数字助农的行列。2021年8月5日,腾讯安全发布战略新品“腾讯安心平台”,通过一物一码、区块链等技术,实现商品从生产过程、流通过程、营销过程的全链路数字化管理。腾讯安心平台将在未来三年时间内挖掘甄选100个优秀原产地农产品品牌,通过“资金+技术+解决方案+专家服务+流量扶持+品牌建设”的全面助力,打造100位乡村振兴模范。越来越多电商

平台推出助农战略,这些战略有利于

- ①推动农业供给侧结构性改革,培育农村经济发展新业态
②通过“输血式”战略机制助力我国乡村振兴
③创新销售模式,增强消费者消费体验,进行放心消费
④通过缩短农产品流通供应链提升农产品价值

- A. ①②
B. ①③
C. ②④
D. ③④

17. 2021年政府工作报告提出,2020年城镇新增就业1186万人,今年主要目标之一是城镇新增就业1100万人以上,十四五主要目标之一是城镇调查失业率控制在5.5%以内。切实保障就业对经济发展的影响路径是

- ①提高消费能力,增强消费意愿
②释放消费潜力,助力企业发展
③切实保障就业,增加居民收入
④畅通产业链、供应链,拉动经济增长

- A. ③-④-①-②
B. ③-②-①-④
C. ③-①-④-②
D. ③-①-②-④

18. 股权融资是指企业的股东愿意让出部分企业所有权,通过企业增资的方式引进新股东的融资方式。包括通过股票市场向公众投资者发行股票来募集资金和企业吸引特定的投资人增资入股企业等方式。开展股权融资

- ①有利于扩大间接融资的比重,优化融资结构
②有利于拓宽投资渠道,优化资本结构
③所获得的资金,企业必须要还本付息
④有利于完善治理结构,提高管理水平

- A. ①②
B. ①③
C. ②④
D. ③④

19. 知识产权,也称“知识所属权”,指“权利人对其智力劳动所创作的成果享有的财产权利”。当前,我国正在从知识产权引进大国向知识产权创造大国转变,知识产权工作正在从追求数量向提高质量转变。我们必须从国家战略高度和进入新发展阶段的要求出发,全面加强知识产权保护工作。全面加强知识产权保护工作,有利于

- ①健全按生产要素按贡献参与分配的制度,更好地尊重知识和人才
②缩小收入差距,实现共同富裕的根本目标,实现同步发展
③激发市场参与者的创新创造活力,培育经济发展新动能
④完善再分配调节机制,维护社会公平正义

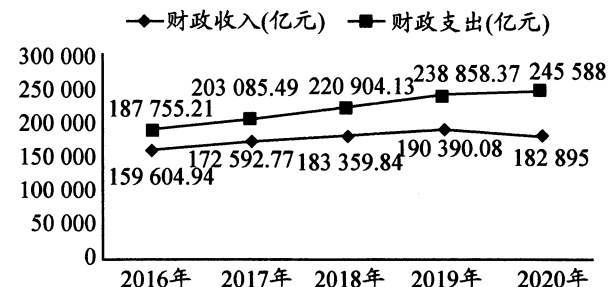
- A. ①②
B. ①③
C. ②④
D. ③④

20. 现在,有些片方为了短时间炒热一部影视剧,会组织粉丝刷市场数据,甚至炮制“好评如潮”进行数据造假。部分盲目的粉丝就这样在市场的纵容和资本的利用之下逐渐走向疯狂,使粉丝行为演变成为以“爱的名义”扰乱影视行业规范、干扰市场健康发展的“暴行”。解决这一问题,需要

- ①政府部门强化监管,弥补市场调节不足
②企业规范经营行为,积极承担社会责任
③消费者协会制定行业标准,督促企业遵纪守法
④消费者抛弃从众心理,理性求实地消费

- A. ①②
B. ①④
C. ②③
D. ③④

21. 下图是我国2016~2020年的财政收支状况。对此,解读正确的是



注:2020年我国经济总量首次突破百万亿元大关,全年GDP达101.6万亿元,人均GDP连续两年超过1万美元。

版权所有 盗版必究 严禁影印网传

- ①我国实施积极的财政政策以促进国民经济健康发展
 ②国家经济发展状况是决定财政收入状况的基础因素
 ③财政赤字增长扩大社会总供给有利于供求动态平衡
 ④实现财政收支平衡才能够促进经济持续稳定的发展
- A. ①② B. ①④ C. ②③ D. ③④
22. 2021年,我国继续常态化实施财政资金直达机制,扩大中央财政直达资金范围,将直接用于基层财力保障的一般性转移支付、具备条件的专项转移支付纳入直达机制范围,涉及中央财政资金2.8万亿元,基本实现中央财政民生补助资金全覆盖。此举意在
- ①优化国民收入初次分配,促进社会公平正义
 ②完善中央转移支付制度,提高资金下达效率
 ③提高财政资金使用效益,增进社会民生福祉
 ④扩大财政资金支出范围,实现财政收支平衡
- A. ①② B. ①④ C. ②③ D. ③④
23. 2021年4月10日,市场监管总局依法对阿里巴巴集团滥用市场支配地位,获取不正当竞争优势等垄断行为作出行政处罚,责令其停止违法行为,并处以182.28亿元罚款。此次处罚,是监管部门强化反垄断和防止资本无序扩张的具体举措。我国加强对平台经济领域反垄断监管的意义在于
- ①降低市场准入门槛,优化营商环境 ②规范平台经济秩序,激发市场活力
 ③完善市场监管,维护社会公共利益 ④参与企业经营,化解经济运营风险
- A. ①② B. ①④ C. ②③ D. ③④
24. 先秦典籍《尚书·禹贡》将当时人所知道的“天下”按地理区域分为“九州”,并提出使九州安定的理想治理方式,即以京都为中心,由近及远将九州分为甸、侯、绥、要、荒五服这五种不同治理区。材料表明当时
- A. 中央达成了对地方的垂直控制 B. 实现了地域等级治理方式
 C. 已有“天下一统”的整体观念 D. 各国兼并战争日趋激烈化
25. 元光元年,汉武帝诏令郡国每岁向朝廷举荐孝者、廉吏各一人以备擢用,由此形成固定的“察举”。孝廉以外,还有一些临时性的科目,如茂才(秀才)、贤良方正、文学等。由此可知当时
- A. 地方权力有所扩大 B. 选官制度与统治思想相适应
 C. 举官标准存在漏洞 D. 武帝放弃对秦朝制度的借鉴
26. 魏晋南北朝时期各王朝对修史十分重视,史官制度有相应的发展,造就了众多的史家。这一时期,官方史学发展的原因最有可能是
- A. 通过官方修史提高史学的可信度 B. 儒学思想的影响力大大加强
 C. 论证自身政权合法性需求的推动 D. 根源于商品经济的迅速发展
27. 唐代规定民户每年要向地方政府呈报本户户口、田亩,称为手实。地方政府据此统计出应纳税调总额,上报中央政府作为预算依据,称为计帐。在计帐的基础上登记户籍,逐户载明户口、田亩、承担赋役情况。材料所述做法
- A. 反映出当时社会存在大量自耕农 B. 表明政府对两税法极其重视
 C. 顺应了商品经济发展的历史趋势 D. 有利于庶族地主的大量增加
28. 五代时期历仕四朝官位不坠而被人称羨的冯道,在宋朝成为了“无耻之尤”的反面教材,受到严厉抨击。唐朝的统治虽有过辉煌业绩,但也经常被宋人挑出“三纲不立”的毛病,冷嘲热讽。上述现象出现的直接原因是
- A. 士大夫对传统伦理道德秩序重建 B. 南方经济水平超越北方
 C. 儒家正统地位受到佛老思想冲击 D. “以文治国”理念的影响

29. 宋代采用招商赈济、以工代赈等方式进行扶贫……还设立“纳粟补官”制度,对参与扶贫的富户奖以荣誉称号……政府除了在自然灾害之后开展临时性救助……从财政、民政乃至军政多个层面对贫困人口进行帮扶。由此可知,宋代扶贫政策

- A. 采用了单一的行政手段进行
B. 改变了宋代“积贫积弱”的局面
C. 助推了海外贸易的繁荣发展
D. 设计及实施有系统性和时效性

30. 元朝行省的划界原则,一改前代以山川形便为主的做法,明确以犬牙交错为主导。为了打破太行山之险,让腹里地跨太行山东西两侧,合并山东、山西,河北、蒙古等地。为了打破南岭之险,采取南北纵切的方法,让湖广行省越过南岭而有广西之地,又使江西行省越过南岭而有广东之地。元代行省的划界原则

- A. 是为了增强对边疆的控制
B. 推动了土司制度的发展
C. 削弱了地方经济文化认同
D. 消弭了民族之间的矛盾

31. 下表是广州、上海生丝出口统计表。该表信息反映出

年份	广州	上海
1843	1 430	0
1845	5 430	5 146
1846	2 843	12 517
1850	3 444	13 794

- A. 中国对外贸易中心转移的趋势
B. 中国生丝主导国际生丝市场
C. 上海周边民族缫丝工业快速发展
D. 中国贸易顺差呈现加剧倾向

32. 下图为 1907 年《神州日报》漫画《过渡》。画面中一个穿着“革”的船夫,与穿着“宪”的船夫正争相划渡,但他们的朝向正好相反。画中配诗曰:“日薄西山可奈何,保皇革命两蹉跎。那堪入夜风波恶,驶向沉舟侧畔过。”漫画描绘的现象




- A. 有利于民主思想的传播
B. 批判了地主阶级中体西用的时代局限
C. 表明民众民族意识增强
D. 体现资产阶级初步尝试变革社会制度

33. 某学者认为,新文化运动中“民主”和“科学”的传播以及对孔教和封建专制主义的批判,使知识分子特别是青年学生……不再相信和服从于任何权威。由此推知,该学者旨在表达,新文化运动

- A. 存在绝对主义的错误倾向
B. 为五四运动提供思想条件
C. 批判“尊孔复古”的逆流
D. 推动了辛亥革命加速到来

34. 右图是某位书法家为庆祝党的诞辰而书写的书法作品:“暗夜南湖亮斗星,燎原烈火向天明。征程二万经风雨,宝塔擎旗进北京。”材料中“燎原烈火向天明”



- A. 基本推翻了北洋军阀的反动统治
B. 得益于苏俄革命模式的有效启发
C. 促成了第二次国共合作的实现
D. 是马克思主义中国化的革命实践

35. 下表是 1952~1956 年我国经济结构变动表。此时,经济结构的变动

类型		1952 年	1956 年
公有制经济	国营经济	19.1%	32.2%
	合作社经济	19.1%	53.4%
	公私合营经济	0.7%	7.3%
私有制经济	资本主义经济	6.9%	不足 1%
	个体经济	71.8%	7.1%

- A. 推动了土地改革的顺利进行
B. 意味着社会主义制度的基本建立
C. 为三大改造奠定了坚实基础
D. 标志着国民经济恢复工作的完成

第 II 卷(非选择题,共 160 分)

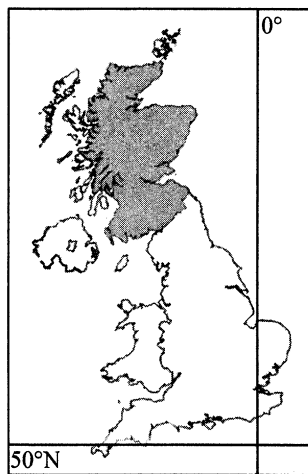
本卷包括必考题和选考题两部分。第 36 题~第 42 题为必考题,第 43 题~第 44 题为选考题,每个试题考生都必须作答。

36. (22 分) 阅读图文材料,完成下列问题。

材料一 2020 年 1 月 31 日,英国正式脱欧。脱欧后,英国实施新的积分制移民政策,希望留下更多接受过教育的劳工和技术工人。为此,禁止“低技术劳工”在境内就业,包括来自东欧的季节性劳工。但欧盟护照仍然有入境英国的权利,只是免签入境英国的目的只可以是访问。

材料二 2021 年 9 月 12 日 CNN 援引苏格兰某地种植者协会副会长伊恩·布朗的话报道称,因劳动力短缺,其农场的蔬菜无法被及时运送到超市,这意味着他种植的作物中将有 10% 至 15% 被浪费,价值大约 20 万英镑。同时,英国几家大型连锁超市的老板形容食品短缺史无前例,今年圣诞节食品货架可能会空空如也。

材料三 右图为英国轮廓图,阴影部分为苏格兰。



(1) 结合所学,推测伊恩·布朗的农场最可能位于苏格兰的东部还是西部? 并分析该地种植蔬菜的区位优势。(8 分)

▲

(2) 伊恩·布朗的蔬菜不能被及时送到超市,可能是蔬菜供应链中哪些环节缺乏劳动力所致?(4 分)

▲

(3) 试分析英国出现劳动力短缺的原因。(6 分)

▲

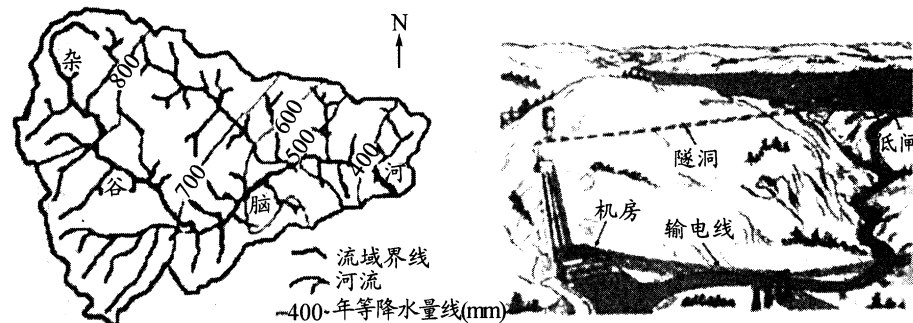
(4) 英国政府应采取哪些措施以保证圣诞节期间蔬菜供应稳定?(4 分)

▲

37. (24 分) 阅读图文材料,完成下列问题。

位于青藏高原东南边缘的杂谷脑河流域(下左图),海拔为 1326~5922 米,境内峰峦叠嶂,山高坡陡,沟谷狭窄,属于典型的高山峡谷地貌。区域内气候、植被和外力作用差异显著,峡谷地带风力作用显著。杂谷脑河流量较小,含沙量大,水能丰富,河上已建成几十座引水式水电站。水电站一般包括坝式、引水式两种基本模式。坝式水电站通过修建高坝利用河水落差发电,该方式往往闸口过高,泥沙容易淤积,进而导致库容萎缩;引

水式水电站是在合适的河段建立较低水坝和低闸,然后在岸边建立渠道或隧洞,把水引向下游,充分利用天然河床和引水系统之间的落差发电(下右图)。



(1) 描述杂谷脑河流域高山峡谷地貌的主要形成过程。(6 分)

▲

(2) 分析杂谷脑河流域峡谷地带风力作用显著的原因。(4 分)

▲

(3) 说明杂谷脑河流量较小,含沙量大的自然原因。(8 分)

▲

(4) 分析在杂谷脑河流域宜采用引水式水电站开发水能的原因。(6 分)

▲

38. (24 分) 阅读材料,完成下列要求。

畅通国内大循环主要是把满足国内需求作为发展的出发点和落脚点,加快构建完整的内需体系。“十四五”规划和 2035 年远景目标纲要提出,加快构建以国内大循环为主体、国内国际双循环相互促进的新发展格局。

材料一 中国是全世界唯一拥有联合国产业分类中所列全部工业门类的国家,在 500 多种主要工业产品中,中国有 220 多种产品产量居全球第一。在激烈的国内外竞争中,国产优秀品牌不断涌现,国产商品已经告别人们心中“质量差”“标准低”的刻板印象,消费者对国产品牌的关注度不断提高。随着经济发展,老百姓的钱袋子越来越鼓,最近十年全国居民人均可支配收入翻了一番,形成了世界规模最大的中等收入人群。截至 2020 年末,我国基本养老保险覆盖 9.99 亿人,基本医疗保险覆盖 13.6 亿人,织成了一张世界最大的社会保障网。

材料二 近年来,国货以硬核的品质开始打破被国外品牌全方位压制的局面,以华为、格力为代表的一大批国货成为消费者引以为傲的国产品牌。国货抓住了国人内心的审美潮流,李宁的国潮服装、故宫博物院的文创产品等,无一不在诉说着中华民族特有的精神魅力。调查发现,目前消费者对国产品牌的关注度超过 70%,质量可靠、价格便宜、表达爱国情怀和科技创新等成为驱动消费者购买国货的主要因素。

(1) 结合材料一并运用《经济生活》知识,分析我国构建国内大循环的有利条件。(12 分)

▲

(2) 结合材料二并运用《经济生活》知识,从“质量可靠”“价格便宜”和“表达爱国情怀”三个角度,说明企业应如何更好地满足消费者需要。(12 分)

▲

39. (18 分) 阅读材料,完成下列要求。

2020 年 12 月 11 日,中共中央政治局召开会议,分析研究 2021 年经济工作。会议提出,2021 年经济工作将继续做好“六保”工作(保居民就业、保基本民生、保市场主体、保粮食能源安全、保产业链供应链稳定、保基层运转)。去年第一季度我国 GDP 下降 6.8%,在当前经济发展面临巨大挑战的背景下,这一提法引发广泛关注。

中小企业是我国市场主体最主要的组成部分,被称为市场经济的毛细血管。中小企业量多面广,自身抗风险能力较弱,尤其是在复工复产过程中,往往面临一些政策看得见摸不着、享受优惠程序繁复、成本压力依然很大、资金链还存在断裂风险、订单难找等诸多考验。正因如此,在某种程度上来说,保市场主体的关键在于保中小企业,想尽一切办法让中小微企业和个体工商户生存下来。

结合材料并运用经济学知识,简要说明“保中小企业”的必要性和重要性(12分),并就如何“保中小企业”提几点具体的政策建议(6分)。

40. (10分) 阅读材料,完成下列要求。

2021年9月11日,第九届中国中小企业投融资交易会暨金融交易博览会(以下简称投融资会)在北京国家会议中心隆重开启。本届投融资会是开办以来首次将区块链纳入展区进行研讨的会议。

区块链是新一代的、面向未来的、具有革命性意义的现代信息技术。它是一个分布式的共享账本和数据库,具有去中心化、不可篡改、全程留痕、可以追溯、集体维护、公开透明等特点。

H市为推动区块链技术创新发展,着力构建区块链应用生态圈,以区块链业务为主营业务的公司数量已超过40余家,产业初具规模;认真落实关于推动区块链健康有序发展的政策措施,持续改善营商环境,不断积聚产业发展优势;加快编制区块链产业发展总体规划,健全完善配套服务体系,加快落地一批新项目,集聚示范企业,努力打造国家级区块链产业园区;加大对区块链基础技术和应用的研发投入力度,促进区块链与大数据、智能化、工业互联网、5G等信息技术深度融合,为企业高质量发展赋能。

结合材料并运用经济生活知识,概括H市推动区块链技术创新发展的措施。(10分)

41. (25分) 阅读材料,完成下列要求。

材料一 私人海上贸易追求高额商业利润,如丝在日本“每百斤值银五六百两,取去者其价十倍”。私商郑芝龙“岁入以千万计,以致富敌国”。明代《东西洋考》共记载海上贸易进口货物共一百一十五种,其中高级消费品已基本断绝,而番镜、草席、番纸、琉璃瓶等用品大大增加。宋元以前的海外贸易是以外来商人来华贸易为主,明清私人海商开始大量涌向世界各地。他们既是做买卖的商人,又是杀人越货的海盗,海禁不严时,他们从事商业活动,海禁一严,立即转商为盗,变成海寇。

——摘编自林仁川《明清私人海上贸易的特点》

材料二 1873~1930年中国各年出口货物分类统计表

年份	总计 值(千元)	原料		半制成品		制成品	
		农产品(%)	矿产品(%)	手工(%)	机制(%)	手工(%)	机制(%)
1873	108 449	2.6	/	37.4	/	68.3	1.7
1893	181 713	15.6	/	28.4	0.1	53.4	2.5
1903	333 961	26.8	0.4	17.2	14.7	32.9	8.0
1910	593 337	39.1	0.7	13.1	11.9	28.3	6.8
1920	843 860	36.4	3.7	8.2	12.3	31.2	8.3
1930	1 394 167	45.1	4.6	3.5	12.2	27.1	7.4

——摘编自严中平《中国近代经济史统计资料选辑》

(1)根据材料一并结合所学知识,概括明清私人海上贸易的特点,并分析其影响。(13分)

(2)根据材料二,概括1873~1930年中国出口贸易的变化趋势,并结合所学知识,分析变化的原因。(12分)

42. (12分) 阅读材料,完成下列要求。

近代知识分子职业变动情况统计表(以晚清到民国著名知识分子为样本)

年份	医生	律师	翻译	编辑	文艺家	军事革命家	政治官吏	实业家	学术研究	教育行业	职员	幕僚帮办	其他
1870~1879	-	1	-	-	1	2	2	6	-	6	5	4	8
1880~1889	1	-	1	-	2	9	13	5	4	9	13	8	3
1890~1899	4	1	1	13	2	26	14	13	4	39	28	8	3
1900~1909	3	3	6	35	5	103	44	40	8	87	26	14	14
1910~1919	7	7	4	38	12	84	117	40	28	66	16	16	9

——摘编自《清末民初中国知识分子科学兴趣研究——1870~1930年间著名人物统计为例》

提取材料整体或局部信息,结合所学知识,围绕“近代知识分子的职业选择与社会变迁”自拟论题,并予以说明。(要求:论题明确、史论结合、逻辑严密)

43. (10分)【地理——选修3:旅游地理】

杭州湾钱塘潮是世界三大涌潮之一,因其“滔天浊浪排空来,翻江倒海山可摧”之壮美而闻名国内外。我国观潮之风,早在唐宋就已盛行。每年农历八月十五,钱塘江涌潮最大,吸引了众多游客前往,每到此时,游客伤亡事件时有发生。

试结合所学分析钱塘江大潮的成因及观潮时出现游客伤亡的原因。

44. (15分)【历史——选修4:中外历史人物评说】

材料 西汉宣帝时,黄霸任颍州太守,一方面选择良吏分往辖区内宣布皇帝体恤百姓的诏令,另一方面下令属下的邮亭、乡官等各级机构都畜养鸡豚,以赡养鳏寡贫困者。制定各种规章条令,明确规定父老师师伍长等基层人员的职责,颁布到民间并劝民“务耕桑,节用植财,种树畜养,去食谷马”。而且亲自到民间做调查,严防各级官员阳奉阴违,大打折扣。同时还派稳重可靠的廉吏到各地督查,告诫他们不可张扬,直接与百姓接触。他还实行“先教化而后诛罚”的方针,对各级属官加以爱护,不轻易调动和伤害他们。黄霸任太守期间,颍州社会安定,户口岁增。

——摘编自纪宝成编《中国古代治国要论》

(1)根据材料并结合所学知识,概括黄霸治理颍州的措施。(8分)

(2)根据材料并结合所学知识,分析太守黄霸的优秀品质。(7分)

版权所有 盗版必究 严禁影印网传


成都石室中学2021~2022学年度上期
高2022届10月月考
文科综合答题卡


姓名 _____ 座位号

准考证号

贴条形码区
(正面朝上 切勿贴出虚线框外)

注意
事项

1. 答题前，考生务必先认真核对条形码上的姓名、准考证号和座位号，无误后将本人姓名、准考证号和座位号填写在相应位置上。
2. 选择题填涂时，必须使用2B铅笔按  图示规范填涂；非选择题必须使用0.5毫米黑色字迹的钢笔或签字笔作答。
3. 必须在题目所指示的答题区域内作答，超出答题区域的答案无效，在草稿纸、试卷上答题无效。
4. 保持答题卡清洁、完整，严禁折叠，严禁使用涂改液和修正带。

 考生禁涂 缺考标记 缺考考生由监考员贴条形码，并用2B铅笔填涂左边的缺考标记。

选择题 (考生须用2B铅笔填涂)

- | | | | |
|---|---|---|---|
| <input type="checkbox"/> 1 <input type="checkbox"/> A <input type="checkbox"/> B <input type="checkbox"/> C <input type="checkbox"/> D | <input type="checkbox"/> 6 <input type="checkbox"/> A <input type="checkbox"/> B <input type="checkbox"/> C <input type="checkbox"/> D | <input type="checkbox"/> 11 <input type="checkbox"/> A <input type="checkbox"/> B <input type="checkbox"/> C <input type="checkbox"/> D | <input type="checkbox"/> 16 <input type="checkbox"/> A <input type="checkbox"/> B <input type="checkbox"/> C <input type="checkbox"/> D |
| <input type="checkbox"/> 2 <input type="checkbox"/> A <input type="checkbox"/> B <input type="checkbox"/> C <input type="checkbox"/> D | <input type="checkbox"/> 7 <input type="checkbox"/> A <input type="checkbox"/> B <input type="checkbox"/> C <input type="checkbox"/> D | <input type="checkbox"/> 12 <input type="checkbox"/> A <input type="checkbox"/> B <input type="checkbox"/> C <input type="checkbox"/> D | <input type="checkbox"/> 17 <input type="checkbox"/> A <input type="checkbox"/> B <input type="checkbox"/> C <input type="checkbox"/> D |
| <input type="checkbox"/> 3 <input type="checkbox"/> A <input type="checkbox"/> B <input type="checkbox"/> C <input type="checkbox"/> D | <input type="checkbox"/> 8 <input type="checkbox"/> A <input type="checkbox"/> B <input type="checkbox"/> C <input type="checkbox"/> D | <input type="checkbox"/> 13 <input type="checkbox"/> A <input type="checkbox"/> B <input type="checkbox"/> C <input type="checkbox"/> D | <input type="checkbox"/> 18 <input type="checkbox"/> A <input type="checkbox"/> B <input type="checkbox"/> C <input type="checkbox"/> D |
| <input type="checkbox"/> 4 <input type="checkbox"/> A <input type="checkbox"/> B <input type="checkbox"/> C <input type="checkbox"/> D | <input type="checkbox"/> 9 <input type="checkbox"/> A <input type="checkbox"/> B <input type="checkbox"/> C <input type="checkbox"/> D | <input type="checkbox"/> 14 <input type="checkbox"/> A <input type="checkbox"/> B <input type="checkbox"/> C <input type="checkbox"/> D | <input type="checkbox"/> 19 <input type="checkbox"/> A <input type="checkbox"/> B <input type="checkbox"/> C <input type="checkbox"/> D |
| <input type="checkbox"/> 5 <input type="checkbox"/> A <input type="checkbox"/> B <input type="checkbox"/> C <input type="checkbox"/> D | <input type="checkbox"/> 10 <input type="checkbox"/> A <input type="checkbox"/> B <input type="checkbox"/> C <input type="checkbox"/> D | <input type="checkbox"/> 15 <input type="checkbox"/> A <input type="checkbox"/> B <input type="checkbox"/> C <input type="checkbox"/> D | <input type="checkbox"/> 20 <input type="checkbox"/> A <input type="checkbox"/> B <input type="checkbox"/> C <input type="checkbox"/> D |
| <input type="checkbox"/> 21 <input type="checkbox"/> A <input type="checkbox"/> B <input type="checkbox"/> C <input type="checkbox"/> D | <input type="checkbox"/> 26 <input type="checkbox"/> A <input type="checkbox"/> B <input type="checkbox"/> C <input type="checkbox"/> D | <input type="checkbox"/> 31 <input type="checkbox"/> A <input type="checkbox"/> B <input type="checkbox"/> C <input type="checkbox"/> D | |
| <input type="checkbox"/> 22 <input type="checkbox"/> A <input type="checkbox"/> B <input type="checkbox"/> C <input type="checkbox"/> D | <input type="checkbox"/> 27 <input type="checkbox"/> A <input type="checkbox"/> B <input type="checkbox"/> C <input type="checkbox"/> D | <input type="checkbox"/> 32 <input type="checkbox"/> A <input type="checkbox"/> B <input type="checkbox"/> C <input type="checkbox"/> D | |
| <input type="checkbox"/> 23 <input type="checkbox"/> A <input type="checkbox"/> B <input type="checkbox"/> C <input type="checkbox"/> D | <input type="checkbox"/> 28 <input type="checkbox"/> A <input type="checkbox"/> B <input type="checkbox"/> C <input type="checkbox"/> D | <input type="checkbox"/> 33 <input type="checkbox"/> A <input type="checkbox"/> B <input type="checkbox"/> C <input type="checkbox"/> D | |
| <input type="checkbox"/> 24 <input type="checkbox"/> A <input type="checkbox"/> B <input type="checkbox"/> C <input type="checkbox"/> D | <input type="checkbox"/> 29 <input type="checkbox"/> A <input type="checkbox"/> B <input type="checkbox"/> C <input type="checkbox"/> D | <input type="checkbox"/> 34 <input type="checkbox"/> A <input type="checkbox"/> B <input type="checkbox"/> C <input type="checkbox"/> D | |
| <input type="checkbox"/> 25 <input type="checkbox"/> A <input type="checkbox"/> B <input type="checkbox"/> C <input type="checkbox"/> D | <input type="checkbox"/> 30 <input type="checkbox"/> A <input type="checkbox"/> B <input type="checkbox"/> C <input type="checkbox"/> D | <input type="checkbox"/> 35 <input type="checkbox"/> A <input type="checkbox"/> B <input type="checkbox"/> C <input type="checkbox"/> D | |

非选择题 (考生须用0.5毫米黑色字迹的钢笔或签字笔书写)

36. (22分)

(1)

(2)

(3)

(4)

请在各题目的答题区域内作答，超出答题区域的答案无效

请在各题目的答题区域内作答，超出答题区域的答案无效

37. (24分)

(1)

(2)

(3)

(4)

请在各题目的答题区域内作答，超出答题区域的答案无效

请在各题目的答题区域内作答，超出答题区域的答案无效

(2)

39. (18分)

请在各题目的答题区域内作答，超出答题区域的答案无效

考生姓名 座位号

考生务必将姓名、座位号用0.5毫米黑色字迹的钢笔或签字笔认真填写在书写框内，座位号的每个书写框内只能填写一个阿拉伯数字。

请在各题目的答题区域内作答，超出答题区域的答案无效

40. (10分)

41. (25分)

(1)

请在各题目的答题区域内作答，超出答题区域的答案无效

请在各题目的答题区域内作答，超出答题区域的答案无效

(2)

42. (12分)

请在各题目的答题区域内作答，超出答题区域的答案无效

请在各题目的答题区域内作答，超出答题区域的答案无效

地理选做题

43.

(作答时请用2B铅笔将所选题号后的方框涂黑。)

地理选做题号 _____ (10分)

历史选做题

44.

(作答时请用2B铅笔将所选题号后的方框涂黑。)

历史选做题号 _____ (15分)

请在各题目的答题区域内作答，超出答题区域的答案无效